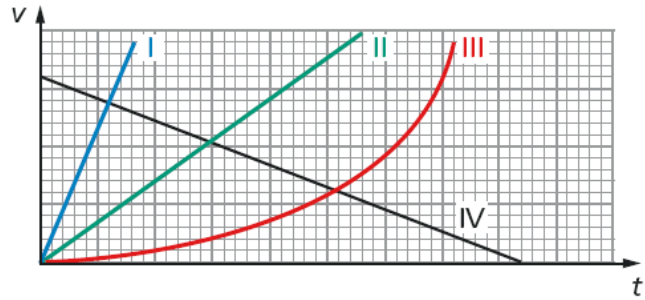


Aufgabe 1

In einem Geschwindigkeit-Zeit-Diagramm sind die Bewegungen unterschiedlicher Körper dargestellt.

- Welche Bewegungsarten liegen jeweils vor? Begründen Sie!
- Welche physikalische Bedeutung hat der Schnittpunkt zweier Graphen?



Aufgabe 2

- Ein Zug erreicht aus der Ruhe nach 10 s die Geschwindigkeit 5 m/s. Wie groß ist seine Beschleunigung? Wie weit ist er gefahren?
- Ein mit konstanter Beschleunigung anfangender Wagen kommt in den ersten 12 s 133 m weit. Wie groß sind Beschleunigung und Geschwindigkeit nach 12 s?

Aufgabe 3

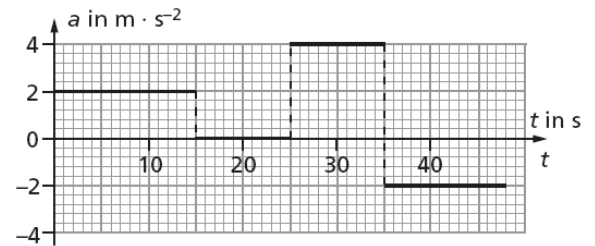
Ein Pkw wird aus dem Stand heraus gleichmäßig beschleunigt und erreicht nach 7 s eine Geschwindigkeit von 50 km/h. Diese Geschwindigkeit behält er 15 s lang bei und bremst dann innerhalb von 4 s gleichmäßig bis zum Stillstand ab.

- Zeichnen Sie das t - v -Diagramm für die beschriebene Bewegung!
- Entwickeln Sie daraus das t - s - und das t - a -Diagramm!

Aufgabe 4

Für die Bewegung eines Autos liegt ein idealisiertes Zeit-Beschleunigung-Diagramm vor.

- Interpretieren Sie dieses Diagramm!
- Berechnen Sie den innerhalb der ersten 35 s zurückgelegten Weg!
- Welche Höchstgeschwindigkeit erreicht das Fahrzeug?



Aufgabe 5

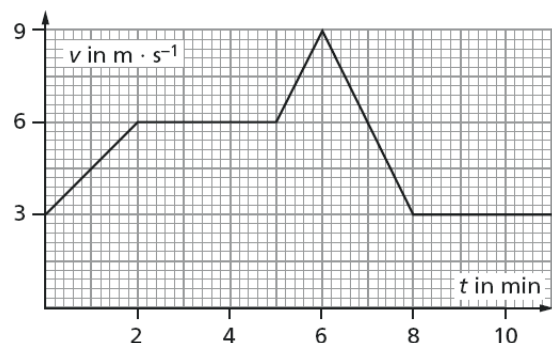
Ein Bob hat vom Start an eine gleichbleibende Beschleunigung von 1,8 m/s².

- Wie schnell ist der Bob 5,0 s nach dem Start?
- Welchen Weg hat er bis zu diesem Zeitpunkt zurückgelegt?
- Wie groß ist bis zu diesem Zeitpunkt die Durchschnittsgeschwindigkeit?

Aufgabe 6

Untersuchungen der Reaktionszeit von Kraftfahrern ergaben einen Mittelwert von 0,92 s.

- Wie groß ist der Anhalteweg unter Berücksichtigung der Reaktionszeit bei Geschwindigkeiten von 30 km/h, 50 km/h, 70 km/h und 100 km/h, wenn man auf trockener Straße eine konstante Bremsverzögerung von 5,5 m/s² annimmt?
- Welche Konsequenzen ergeben sich daraus für das Verhalten von Kraftfahrern in Ortschaften?



Aufgabe 7

Berechnen Sie aus dem t - v -Diagramm für einen Radfahrer die Strecke, die er insgesamt zurücklegt!

a) Es liegen folgende Bewegungsarten vor:

I: Gleichmäßig beschleunigte Bewegung aus dem Stillstand

II: Gleichmäßig beschleunigte Bewegung mit einer kleineren Beschleunigung als bei I

III: Ungleichmäßig beschleunigte Bewegung, wobei die Beschleunigung immer größer wird

IV: Gleichmäßig verzögerte Bewegung bis zum Stillstand

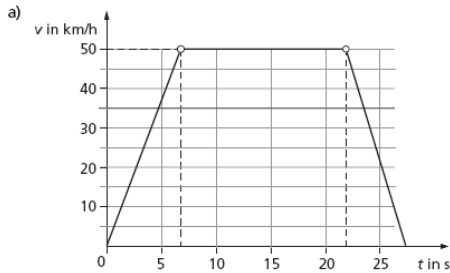
b) Die betreffenden Körper haben zu dem Zeitpunkt t den gleichen Betrag der Geschwindigkeit v .

Aufgabe 2

a) Da $s = \frac{1}{2} at^2$, ist $a = 2s/t^2 = 1,85 \text{ m/s}^2$. Es ergibt sich $v = at = 22,2 \text{ m/s}$.

b) Die Beschleunigung des Zuges beträgt $a = v / t = 5 \text{ m} / 10 \text{ s}^2 = 0,5 \text{ m/s}^2$. Er ist $s = \frac{1}{2} at^2 = \frac{1}{2} \cdot 0,5 \cdot 100 \text{ m} = 25 \text{ m}$ weit gefahren.

Aufgabe 3



b) Für das s-t-Diagramm muss man die zurückgelegten Wege berechnen:

$$s_1 = \frac{a}{2} \cdot t_1^2 = \frac{13,9 \frac{\text{m}}{\text{s}}}{2} \cdot (7 \text{ s})^2 \approx 49 \text{ m}$$

(Man kann auch rechnen: $s_1 = \frac{v \cdot t_1}{2}$)

$$s_2 = s_1 + v \cdot t_2$$

$$s_2 = 49 \text{ m} + 13,9 \frac{\text{m}}{\text{s}} \cdot 15 \text{ s} = 258 \text{ m}$$

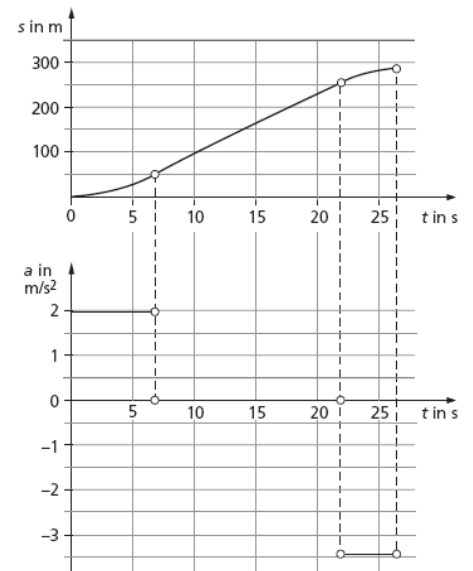
$$s_3 = s_2 + v \cdot t_3 - \frac{a}{2} \cdot t_3^2$$

$$s_3 = 258 \text{ m} + 13,9 \frac{\text{m}}{\text{s}} \cdot 4 \text{ s} - \frac{13,9 \frac{\text{m}}{\text{s}}}{2 \cdot 4 \text{ s}} \cdot (4 \text{ s})^2$$

$$s_3 = 258 \text{ m} + 55,6 \text{ m} - 27,8 \text{ m}$$

$$s_3 = 285,8 \text{ m} \approx 286 \text{ m}$$

Damit erhält man die dargestellten Diagramme.



Aufgabe 4

a) Das Auto bewegt sich zunächst mit $2 \frac{\text{m}}{\text{s}^2}$ gleichmäßig beschleunigt, fährt dann gleichförmig weiter ($a = 0$), beschleunigt dann mit $a = 4 \frac{\text{m}}{\text{s}^2}$ und verzögert anschließend mit $-2 \frac{\text{m}}{\text{s}^2}$.

b) Der in den ersten drei Intervallen zwischen 0 und $t_1 = 15 \text{ s}$; 15 s und $t_2 = 25 \text{ s}$, 25 s und $t_3 = 35 \text{ s}$ insgesamt zurückgelegten Weg lässt sich berechnen mit:

$$s = \frac{a}{2} \cdot t^2$$

$$s_1 = \frac{2 \frac{\text{m}}{\text{s}^2}}{2} \cdot (15 \text{ s})^2 = 225 \text{ m}$$

$$s_2 = s_1 + v_2 \cdot t = 225 \text{ m} + 30 \frac{\text{m}}{\text{s}} \cdot 10 \text{ s} = 525 \text{ m}$$

$$s_3 = s_2 + v_2 \cdot t + \frac{a}{2} \cdot t^2$$

$$s_3 = 525 \text{ m} + 30 \frac{\text{m}}{\text{s}} \cdot 10 \text{ s} + \frac{4 \frac{\text{m}}{\text{s}^2}}{2} \cdot (10 \text{ s})^2$$

$$s_3 = 525 \text{ m} + 300 \text{ m} + 200 \text{ m}$$

$$s_3 = 1025 \text{ m}$$

c) Da die Bewegung ab dem Zeitpunkt $t = 35 \text{ s}$ abgebremst wird, ist die Geschwindigkeit bei $t = 35 \text{ s}$ am größten.

$$v_1 = a \cdot t$$

$$v_1 = 2 \frac{\text{m}}{\text{s}^2} \cdot 15 \text{ s} = 30 \frac{\text{m}}{\text{s}}$$

$$v_2 = 30 \frac{\text{m}}{\text{s}}$$

$$v_3 = v_2 + 4 \frac{\text{m}}{\text{s}^2} \cdot 10 \text{ s} = 70 \frac{\text{m}}{\text{s}}$$

Aufgabe 5a) Gesucht: v

Gegeben: $t = 5,0 \text{ s}$
 $a = 1,8 \frac{\text{m}}{\text{s}^2}$

Lösung: $v = a \cdot t$
 $v = 1,8 \frac{\text{m}}{\text{s}^2} \cdot 5,0 \text{ s}$

$$\underline{v = 9 \frac{\text{m}}{\text{s}}}$$

b)

$$s = \frac{a}{2} \cdot t^2$$

$$s = \frac{1,8 \frac{\text{m}}{\text{s}^2}}{2} \cdot (5,0 \text{ s})^2$$

$$\underline{s = 22,5 \text{ m}}$$

c)

$$\bar{v} = \frac{s}{t}$$

$$\bar{v} = \frac{22,5 \text{ m}}{5,0 \text{ s}}$$

$$\underline{\bar{v} = 4,5 \frac{\text{m}}{\text{s}} = 16,2 \frac{\text{km}}{\text{h}}}$$

Aufgabe 6

a) Der Anhalteweg ergibt sich aus der gleichförmigen Bewegung während der Reaktionszeit und dem Weg, der während des Bremsens zurückgelegt wird.

Gesucht: s

Gegeben: $a = 5,5 \frac{\text{m}}{\text{s}^2}$

$$v = 30 \frac{\text{km}}{\text{h}}, 50 \frac{\text{km}}{\text{h}}, 70 \frac{\text{km}}{\text{h}}, 100 \frac{\text{km}}{\text{h}}$$

Lösung: $s = v \cdot t_1 + \frac{a}{2} \cdot t_2^2$

Mit $t_2 = \frac{v}{a}$ erhält man: $s = v \cdot t_1 + \frac{v^2}{2a}$

Damit ergibt sich für die verschiedenen Geschwindigkeiten:

$$v = 30 \frac{\text{km}}{\text{h}}: s = \frac{30 \text{ m}}{3,6 \text{ s}} \cdot 0,92 \text{ s} + \left(\frac{30 \text{ m}}{3,6 \text{ s}}\right)^2 \cdot \frac{\text{s}^2}{2 \cdot 5,5 \text{ m}}$$

$$s = 7,67 \text{ m} + 6,31 \text{ m}$$

$$\underline{s \approx 14 \text{ m}}$$

$$v = 50 \frac{\text{km}}{\text{h}}: s \approx 30 \text{ m}$$

$$v = 70 \frac{\text{km}}{\text{h}}: s \approx 52 \text{ m}$$

$$v = 100 \frac{\text{km}}{\text{h}}: s \approx 96 \text{ m}$$

b) Der Anhalteweg vergrößert sich mit steigender Geschwindigkeit überproportional. Damit wird bei höheren Geschwindigkeiten ein Anhalten vor plötzlichen Hindernissen kaum noch möglich.

Hinweis: Bei den für Pkw angegebenen Bremswegen (meist von 100 km/h auf null), die bei etwa 35 m liegen, handelt es sich um die reinen Bremswege bei optimalen Bedingungen und ohne Berücksichtigung der in der Praxis stets vorhandenen Reaktionszeit.**Aufgabe 7**

13. Die Gesamtstrecke ergibt sich aus den fünf Teilstrecken. Als Gesamtzeit wird 11 min angenommen.

Gesucht: s

Gegeben: $v_0 = 3 \frac{\text{m}}{\text{s}}$ $t_1 = 2 \text{ min} = 120 \text{ s}$

$v_1 = 6 \frac{\text{m}}{\text{s}}$ $t_2 = 3 \text{ min} = 180 \text{ s}$

$v_2 = 9 \frac{\text{m}}{\text{s}}$ $t_3 = 1 \text{ min} = 60 \text{ s}$

$v_3 = 3 \frac{\text{m}}{\text{s}}$ $t_4 = 2 \text{ min} = 120 \text{ s}$

$t_5 = 3 \text{ min} = 180 \text{ s}$

Lösung: Berechnet werden jeweils die Einzelwege s_1 bis s_5 .

$$s_1 = v_0 \cdot t_1 + \frac{a}{2} \cdot t_1^2 \quad \text{mit } a = \frac{\Delta v}{\Delta t}$$

$$s_1 = 3 \frac{\text{m}}{\text{s}} \cdot 120 \text{ s} + \frac{3 \frac{\text{m}}{\text{s}}}{120 \text{ s} \cdot 2} \cdot (120 \text{ s})^2$$

$$s_1 = 360 \text{ m} + 180 \text{ m} = 540 \text{ m}$$

$$s_2 = v_1 \cdot t_2$$

$$s_2 = 6 \frac{\text{m}}{\text{s}} \cdot 180 \text{ s} = 1080 \text{ m}$$

$$s_3 = v_1 \cdot t_3 + \frac{a}{2} \cdot t_3^2$$

$$s_3 = 6 \frac{\text{m}}{\text{s}} \cdot 60 \text{ s} + \frac{3 \frac{\text{m}}{\text{s}}}{60 \text{ s} \cdot 2} \cdot (60 \text{ s})^2$$

$$s_3 = 360 \text{ m} + 90 \text{ m} = 450 \text{ m}$$

$$s_4 = v_2 \cdot t_4 - \frac{a}{2} \cdot t_4^2$$

$$s_4 = 9 \frac{\text{m}}{\text{s}} \cdot 120 \text{ s} - \frac{6 \frac{\text{m}}{\text{s}}}{120 \text{ s} \cdot 2} \cdot (120 \text{ s})^2$$

$$s_4 = 1080 \text{ m} - 360 \text{ m} = 720 \text{ m}$$

$$s_5 = v_3 \cdot t_5$$

$$s_5 = 3 \frac{\text{m}}{\text{s}} \cdot 180 \text{ s} = 540 \text{ m}$$

$$s = s_1 + s_2 + s_3 + s_4 + s_5$$

$$s = 540 \text{ m} + 1080 \text{ m} + 450 \text{ m} + 720 \text{ m} + 540 \text{ m}$$

$$\underline{s = 3330 \text{ m}}$$